

ملاحظة : عدد أسئلة الورقة (ستة) أسئلة أجب عن (خمسة) أسئلة فقط على أن يكون السؤال (الأول) منها.

السؤال الأول : (20 علامة)

ضع إشارة (X) على رمز الإجابة الصحيحة على الورقة المخصصة في دفتر الإجابة:

- 1- ينتج عند التقاء التفريغ الكهربائي بين أسفل السحابة ذات الشحنات السالبة مع الشحنات الموجبة على سطح الأرض :
(أ- ظاهرة البرق ب- ظاهرة الرعد ج- ظاهرة الصاعقة د- المنخفض الجوي).
- 2- تشرف مدينتي سبته و مليله المغربيتين على :
(أ- البحر المتوسط ب- المحيط الأطلسي ج- البحر الأحمر د- الخليج العربي).
- 3- السفوح الجبلية التي يكون فيها الغطاء النباتي أكثر كثافة وتنوعاً هي:
(أ- السفوح شديدة الانحدار ب- السفوح قليلة الانحدار ج- السفوح الواقعة في ظل المطر د- القمم الجبلية المرتفعة).
- 4- تسود الغيوم في طبقة :
(أ- الأيونوسفير ب- الميزوسفير ج- التروبوسفير د- الأنيموسفير).
- 5- تنمو أشجار نخيل الزيت في الغابات :
(أ- النفضية ب- المخروطية ج- الاستوائية د- الموسمية).
- 6- يتعرض بعض سكان الأوكيمو في المنطقة القطبية لبعض الإشعاعات النووية بسبب:
(أ- حركة الهواء الصاعد والهابط ب- التيارات البحرية ج- التجارة العالمية د- انتقال التربة).
- 7- سواحل إيران على بحر قزوين قليلة الفائدة في النقل والتجارة :
(أ- تجمد سواحلها شمالاً ب- كونه بحر مغلق ج- فقر المنطقة الواقعة خلفه د- البعد عن مراكز الإنتاج).
- 8- افترنت السياحة العلاجية في فلسطين بوجود :
(أ- الشلالات ب- مياه البحار ج- الأماكن الأثرية د- ينابيع المياه المعدنية).
- 9- من أنواع الرياح الدائمة التي تهب بانتظام من مناطق الضغط الجوي المرتفع إلى مناطق الضغط الجوي المنخفض:
(أ- الرياح الموسمية ب- الرياح التجارية ج- رياح الهرمطان د- رياح الخماسين).
- 10- تخلو معظم بحيرات السويد من الأسماك بسبب :
(أ- الأمطار الحمضية ب- الإشعاعات النووية ج- القار د- المخلفات الصناعية السائلة).

السؤال الثاني : (20 علامة)


(5 علامات)

(5 علامات)

1- أذكر الآثار الإيجابية و السلبية على تراكم الثلوج.

2- عرف ما يأتي : أ- مفهوم الجغرافيا الحياتية.

ب- كتل القار .



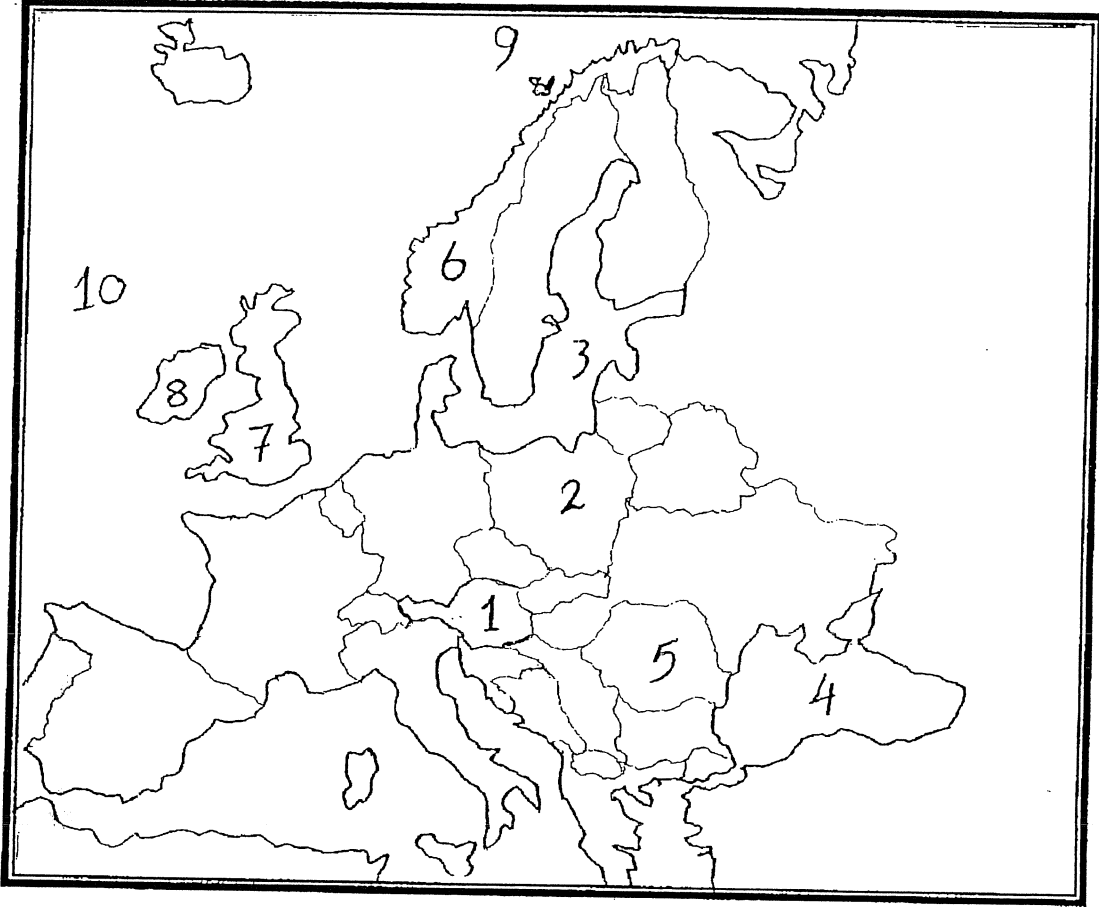
يتبع صفحة (2)

لاحظ الصفحة التالية

(10 علامات)

3- أنقل إلى دفتر الإجابة مدلول الأرقام الموضحة على خريطة قارة أوروبا.

- أ- دول حبيسة 1 ، 2 ب- بحار 3 ، 4 ج- دول بحرية 5 ، 6
د- دول جزرية 7 ، 8 هـ- محيطات 9 ، 10



السؤال الثالث : (20 علامة)

(8 علامات)

- 1- بين دور الملوثات الهوائية في حدوث ظاهرة الاحتباس الحراري .
- 2- أذكر الآثار المترتبة على الأعاصير المدارية.
- 3- ما الطرق التي يمكن من خلالها مكافحة التصحر .

(6 علامات)

(6 علامات)

السؤال الرابع : (20 علامة)


(6 علامات)

- 1- كيف تسهم الأسمدة الكيماوية والمبيدات الزراعية في تلوث التربة.
- 2- قارن بين مفهوم الرطوبة المطلقة ومفهوم الرطوبة النسبية للهواء .
- 3- علل لما يأتي؟

(5 علامات)

(9 علامات)

- أ- الدول التي تمتلك السلاح النووي تمنع وتعاقب الدول التي تحاول الحصول عليه.
- ب- المناطق الريفية في الدولة من المناطق السياحية المهمة فيها .
- ج- ارتفاع نسبة ملوحة المياه الجوفية في الضفة الغربية وقطاع غزة .



يتبع صفحة (3)

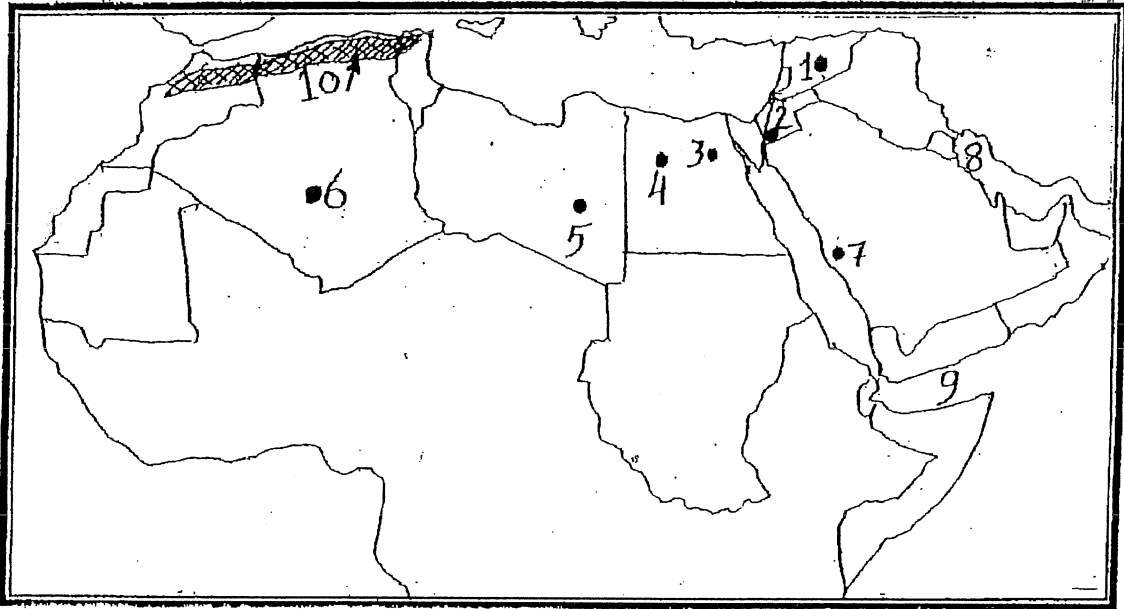
لاحظ الصفحة التالية

السؤال الخامس : (20 علامة)

- 1- عدد العوامل التي تؤثر في حركة الرياح واتجاهها . (5 علامات)
- 2- قارن بين طرق التكامل والتسلق لبعض أنواع النباتات الطبيعية في نموها وإكمال دورة حياتها. (6 علامات)
- 3- علل لما يأتي ؟ (9 علامات)
 - أ- للظروف المناخية أثر في العمليات العسكرية.
 - ب- انتشار نبات العجرم في منطقة الغور في فلسطين.
 - ج- ضعف ظاهرة التلوث على سطح الأرض قديماً .

السؤال السادس : (20 علامة)

- 1- اشرح الطرق التي يتم من خلالها تسخين سطح الأرض والغلاف الجوي . (4 علامات)
- 2- وضح أهم مصادر التلوث الضوضائي التي تصادفنا في حياتنا اليومية. (6 علامات)
- 3- أنقل إلي دفتر الإجابة مدلول الأرقام الموضحة على خريطة الوطن العربي . (10 علامات)
 - أ- مناطق أثرية 1 ، 2 ، 3 .
 - ب- واحات 4 ، 5 ، 6 .
 - ج- مناطق دينية 7 .
 - د- خلجان 8 ، 9 .
 - هـ- جبال 10 .



خاص (المكفوفين)

السؤال الثامن: فقرة " 3 " (بدل الخريطة) (10 علامات)

- قارن بين مفهومي الدولة الاتحادية الفدرالية والدولة الاتحادية الكونفدرالية ، مع الأمثلة .

السؤال السادس : فقرة " 3 " (بدل الخريطة) (10 علامات)

- بين أهم المعوقات التي تواجه السياحة العربية .

انتهت الأسئلة